

1

海野宿検定

長野県東御市 海野宿検定試験
海野宿検定委員会 認定

受験番号	
氏名	

受験者記入欄

解答方法

1. 問題は全て三択問題です。正しいものを一つ選んで下さい。
2. 答えは問題の右側のマス目 (a . b . c) のいずれかに丸をして下さい。
3. 試験時間は40分間です。終了した方は退室して頂いても構いません。

§ 海野の歴史について

- | | | |
|----|---|-----------------|
| Q1 | 現在の長野県を通る旧北國街道の記述はどれか | |
| | a . 信濃追分で中山道と分かれ、海野宿を抜けて越後高田へと続く
b . 信濃追分から海野宿を抜けて篠ノ井を經由して善光寺へ続く
c . 甲州街道から諏訪で分かれ海野宿を抜けて旧北陸道へ続く | a b c |
| Q2 | 750年～765年頃 ” 信濃国小県郡海野郷戸主爪工部君調 ” と文字が記された麻布をねじった紐の芯が確認されたが、それはどこから見つかったか | |
| | a . 平城京跡地から発掘された
b . 正倉院内に残る聖武天皇（上皇）の遺品から
c . 大仏の開眼供養のための献上品が東大寺の宝物殿内から | a b c |
| Q3 | 上記 Q2の紐の芯の文字中に存在する「爪工部(はたくみべ)」はある職業集団と伝えられているが、その卓越した技術で作られていたであろう物はどれか | |
| | a . 鷹の羽や、キジの羽で作られた髪飾りや、女性のお洒落の小道具
b . 凝灰岩を薄く研磨して、祝いの宴で使う 現代の織敷のようなもの
c . 蚕からとれる絹で作った衣笠や絹笠（大事な儀式で使う）のようなもの | a b c |
| Q4 | 永正3年(1506)年に創建され、海野一族の菩提寺となっている興善寺の宗派は | |
| | a . 臨済宗
b . 曹洞宗
c . 真言宗 | a b c |

Q5 承平元年(931年)頃「和妙抄」の中で小県郡の東部町(海野)が出てくるが当時この地は何と呼ばれていたか

- a. 嬢丘 (おおなきゅう)
- b. 童女郷 (おむなごう)
- c. 白鳥庄 (しらとりしょう)

a b c

Q6 海野一族とは関係のないお城は次のどれか

- a. 岩櫃城 (いわびつじょう)
- b. 金山城 (かなやまじょう)
- c. 羽根尾城 (はねおじょう)

a b c

Q7 海野幸広の弟とされているのは次のうちの誰か

- a. 円通院浄寛 (えんつういんじょうかん)
- b. 海野小太郎幸氏 (うんのこたろうゆきうじ)
- c. 大夫房覚明 (だいふぼうかくみょう)

a b c

Q8 養和元年(1181年)白鳥河原に兵を勢揃いさせた木曾義仲の大義名分はなにか

- a. 源頼政を中心とした源氏排除への戦い
- b. 中央での専横ぶりを危惧した平家討伐
- c. 敵対する平家と源氏の仲裁の為、越後へ向かう戦い

a b c

§ 白鳥神社について

Q9 現在の白鳥神社について正しい記述はどれか

- a. 天正19年(1591年)本殿建立、寛永18年(1641年)拝殿造営
- b. 元禄4年(1691年)本殿建立、宝暦11年(1761年)拝殿造営
- c. 寛政3年(1791年)本殿建立、明治14年(1881年)拝殿造営

a b c

Q10 白鳥神社の社殿の建築様式は次のどれか

- a. 屋根は前の方が長く伸び、向拝を覆い、母屋の屋根と向拝の屋根が一連のなだらかな曲線を描くように造る。京都の上賀茂神社に代表される流造り
- b. 切妻造、平入で弥生時代の穀倉としての高床建築と類似する素木造りのものが多く伊勢神宮に代表されるような神明造り
- c. 切妻造り、建物の前面には階隠(はしかくし)のひさしをつけた形。一般的に小規模になる為、土台建てが多い。奈良の春日大社にみられる春日造り

a b c

Q11 明治13年(1880年)、再び元の呼称「白鳥神社」と称されるようになった時のこの神社の社格の記述について正しいのは次のどれか

- a. 太政官布告により定められた神社の格付け制度であり、官社以外は諸社に分類された。白鳥神社は諸社の中では一番高い府社に位置づけられた
- b. 天明4年太政官令による分類であり、白鳥神社は本海野村の産土神であることから村社として格付けされた
- c. 明治4年に制定された神社の格付けであり、白鳥神社は諸社に分類され産土神であることから郷社に格付けされた

a b c

Q12 白鳥神社の祭祀は

a. 海野重道、崇神天皇、善淵王、日本武尊、須佐之男命
 b. 応神天皇、貞元親王、日本武尊子、海野 則広、善淵王
 c. 日本武尊、須佐之男命、善淵王、海野広道、貞元親王

a b c

Q13 明治40年(1907年)、白鳥神社境内に無格社が移転されたが、その無格社とは
 稲荷社、伊勢社、荒神社ともう一つは

a. 諏訪社
 b. 新海社
 c. 官幣大社

a b c

Q14 弘化3年(1846年)、雷電為右衛門が巡業で海野宿に立ち寄った際に、神社の
 鎮守祭での祭礼相撲が、今後も滞りなく行われる事を保証した直筆文章を
 渡してくれた。それは現在どこで保管されているか

a. 相撲博物館（東京都 両国）
 b. 長野市立博物館（2F 郷土展示コーナー）
 c. 海野宿歴史民俗資料館（NPO法人 海野宿トラスト）

a b c

§ 海野宿の町作りの特徴について

Q15 海野宿が「日本の道100選」に選定されたのは何年か

a. 昭和51年(1976年)
 b. 昭和61年(1986年)
 c. 平成 8年(1996年)




a b c

Q16 海野宿の街並みはその小路と石橋の数から、この地に伝わる「海野宿小唄」の
 中ではどのように唄われているか

a. 六小路四十八橋海野宿
 b. 八小路六十四橋海野宿
 c. 四小路五十六橋海野宿


a b c

Q17 海野宿を歩くと 瓦に家紋がデザインされているが、最も多いのは次のどれか
 注：あくまでもデザイン性や流行からのもので 政治的な意味合いではない

a.  b.  c. 

上田藩主 松平氏 海野氏娘婿 真田氏 滋野一族 雁金紋

a b c

Q18  左の写真の卯建(うだつ)は下記のどれか

a. 脇うだつ
 b. 軒うだつ
 c. 袖うだつ

a b c



上の海野宿の地図の番号から正しいものはどれか

1. 滞在型交流施設 うんのわ

Q19 2. a. 作場小路
b. 女道
c. 御蔵小路

a b c

3. 本陣跡

Q20 4. a. 大和屋
b. なつかしの玩具館
c. 東脇本陣跡

a b c

5. 海野宿歴史民俗資料館

Q21 6. a. 福嶋屋
b. 富士屋
c. 金八屋

a b c

Q22 7. a. 求女沢川
b. 金原川
c. 西川

a b c

Q23 8. a. まるや
b. 古美術 武野屋
c. 古本カフェ のらっぽ

a b c

Q24	9. a. 厨子二階造り b. 出し梁造り c. なまこ壁造り	a	b	c
	10. 矢嶋行康記念館			
Q25	11. a. 中蘆買入所 看板 b. 諸国商人衆定宿 看板 c. 御証文検閲所 看板	a	b	c
Q26	12. a. 内和屋 b. ときの譜 (一棟貸 ゲストハウス) c. かじや	a	b	c

§ 宿場町としての海野宿について

Q27	田中宿と関係の無い 偽りのものは次のどれか a. 寛保2年(1742年) 田中宿が壊滅状態となった 戌の満水 b. 文化4年(1807年) 田中宿家屋の約半分が倒壊した 酉の大地震 c. 慶応3年(1867年) 田中宿家屋の八十七棟が焼失した 丑の大火災	a	b	c
Q28	伝馬の役割とはなにか a. 江戸幕府の公用で旅をする全ての人の荷物を宿場で受け、次の宿場まで送る手配をする b. 人力では運ぶことの出来ない 大きな荷を運ぶための馬と人を、目的地まで手配する c. 宿場内は 馬は通行禁止につき、荷を宿場内を通さずに側道から宿場出口へ運び、次の馬へ受け渡す迄の一連の管理を行なう	a	b	c
Q29	北國街道の宿建人馬の勤役を免除されるのは 間屋、本陣、組頭ともう一軒は a. 割番 b. 庄屋 c. 長百姓	a	b	c
Q30	宿場内の伝馬役に継ぎた立て業務が課せられたが、原則として人馬の割り当ての基準となったものは次のどれか a. 屋敷の間口の広さに応じて馬の頭数、人足の人数が決まった b. 出梁の長さにより馬の頭数が割り当てられた(出梁=2階が街道にせり出す) c. 収めた年貢米の俵高により、先ずは人足の人数が定められた	a	b	c
Q31	北國街道で 人馬の継ぎ立て用として常備が定められていたのは下記のどれか a. 25頭(匹)の馬と人足25人 b. 25頭(匹)の馬と人足50人 c. 人足50人は常備、馬は田中宿と合わせて50頭(匹)	a	b	c

Q32	伝馬役に課せられた継ぎ立てが不足した場合はどこから不足の人馬を集めたか a. 近郷近在の助郷村へ組頭が手配 b. 小諸宿、田中宿へ割番が手配 c. 御証文と御定賃銭を管理する年寄りが上田藩へ手配	a b c
Q33	江戸時代後期、中馬業者が横行したが宿場から目の敵にされた理由とは a. 伝馬役を名乗り 御定賃銭以下で仕事を請け負い 組頭の口銭を減らした b. この業者は継ぎ立て に不足する馬を高値で貸し出し暴利をむさぼった c. これらの業者は宿場を通らず脇道を通ったので問屋の権益を減らした	a b c
Q34	加賀藩前田家が行なった参勤交代の記述として 正しいものは次のどれか a. 金沢と江戸 の所要日数15泊16日が通常だが、地震による信濃路の通行不良で、全188回中 11回は越中→飛騨→甲州街道を使い 20日間以上を要した。 b. 北國街道の最難所の崖崩れや高波による道路決壊の影響などがあり、9 回は金沢から越中富山、上越、長野、群馬経由で江戸へ向かう行程を余儀なくされた c. 参勤交代は、慶長八年三代目加賀藩前田利定が江戸へ赴いた事が最初と言われており 幕末の文久三年までの227年間に188回 北國街道を往来した	a b c
§ 養蚕業で繁栄した海野宿について		
Q35	明治4年(1871年)に横浜港から出発した岩倉具視使節団。これに随行した当時の大蔵卿(現在の財務大臣)は誰か a. 伊藤博文 b. 木戸孝允 c. 大久保利通	a b c
Q36	養蚕発展に貢献した矢嶋行康氏が師事した国学者は次の誰か a. 本居宣長 b. 賀茂真淵 c. 平田篤胤	a b c
Q37	海野宿が、養蚕に欠かせない桑の 栽培や調達に成功した理由は次のどれか a. 明治に入りいち早く桑栽培の組合を設立し、組合が生産量を管理した b. 本田、本畑は定められたもの以外の栽培は禁止されていたのだが、屋敷の裏栽培などを行なう 闇取引が盛況に行なわれており、桑の供給は常に需要を上回っていた c. 千曲川河川敷は風通しが良いので蚕の大敵が発生し難く、又、桑は乾燥に強い ため ここで栽培される桑は高値で取引されるほど人気だった	a b c
Q38	1870年蚕種製造取締規則が公布された頃、外国商人に高値で取引されたものは a. 信濃 稲わら (しなの いなわら) b. 小県 本むしろ (ちいさがた ほんむしろ) c. 信州 かます (しんしゅう かます)	a b c

Q39 明治3年(1870年)普仏戦争が始まり、以降急速に蚕種の海外需要が減退した。これによる生産過剰や取引相場の下落を防ぐために政府がとった策とは

- a. 横浜港から輸出される蚕種にのみ課せられる関税を新たに設けることで新潟港、神戸港へ蚕種を分散させ輸送日数を費やす事で在庫を調整した
- b. 田中操車場に監視所を設け、輸出予定の蚕種の質に対し必要以上に厳しく取り締まりを行ない出荷、輸出量を減らした
- c. 波止場に集積されていた蚕種を大量に焼却処分し、在庫量を減らすことで価格の下落を食い止めようとした

a b c

Q40 明治7年以降 蚕種業の海外需要が減退したが、本海野が活況を呈した要因は

- a. 宿場町で街道沿いという地の利を生かし、すでにインフラは整備されていたので、横浜港までの間を格安で流通出来た
- b. 本海野村は江戸時代より学問を重んじていた為 寺子屋が多く、早くから養蚕業や経営学を学問として学ぶ村風が出来上がっていた
- c. 本海野村の蚕種業者は会社組織を設立し、上質な蚕種製造に務めた

a b c

Q41 明治20年頃 栗林の竹内茂一氏が発明したものは次のどれか

- a. 桑切り機 (くわきり)
- b. 蚕巢折り器 (こすおり)
- c. 蚕籠洗浄桶 (さんろう)

a b c

Q42 養蚕に関わる次の記述(1~4)が古い年代順に並んでいるのはどれか

1. 上田~軽井沢間の鉄道が開業し、生糸の輸送に使われた
2. 長野県の桑園面積の約 1/4を小県郡が占め県下第一位となった
3. 桑刻み機が発明され、その販売範囲は県下以外の関東・関西にも広がった
4. 上丸子村に器械製糸場が、上田に器械製糸場信陽館が設立された

- a. 3 → 2 → 1 → 4
- b. 4 → 2 → 3 → 1
- c. 2 → 1 → 4 → 3

a b c

Q43 明治中期以降は製糸業が栄えたが、その経営を大きく左右した一番の要因は何だったか

- a. 工女の多くは農間の稼ぎとして生糸を挽いていたが、昼夜操業の工場内で機械を止める時間が無いよう いかにより多くの工女を集めたか
- b. 製糸機械はその多くが日本製だったが、イタリア、フランスの器械技術は高く、いち早く導入に踏み切れたかどうか
- c. 質の高い繭は糸目が良く作業能率が上がるので、いかに良質な原料繭を安く購入出来たか否か

a b c

Q44 養蚕飼育について 誤った記述はどれか

- a. 明治28年(1895年)から養蚕飼育の催青中(蚕卵がふ化する事)の温度・湿度の研究が進み催青器が完成し合理的な掃き立てが出来るようになった
- b. 明治39年(1906年)には、約3時間毎に給桑出来る器械が伝わり、それまでは昼夜問わず一日8回以上も給桑していた労力が大幅に削減された
- c. 大正11年(1921年)頃になると蚕を人工ふ化出来るようになり、夏蚕(なつご)蚕種が中心であったが、秋蚕(あきご)種製造が活発となっていった

a b c

§ 現在の東御市と海野宿に関して

Q45 東御市は平成29年に姉妹提携を結んだ モルドバ共和国の国旗はどれか



a b c

Q46 昭和59年に雷電の生家が復元されたが、その特別協力に名前を記されているこのエリア出身の元総理大臣は誰か

- a. 宮沢 喜一
- b. 海部 俊樹
- c. 羽田 孜

a b c

Q47 令和4年春に新規OPENした A CORT YARDさんと関係が深いのは次の誰か

- a. 岩合光昭
- b. 荒木経惟（アラーキー）
- c. 桐島ローランド

a b c

Q48 NPO法人 海野宿トラストの設立年度は

- a. 1998年
- b. 2008年
- c. 2018年

a b c

Q49 ガラス工房 橙さんではオリジナル胡桃（クルミ）入りのガラス製品をご購入頂けますが、この胡桃入りガラスの特徴で正しいものは

- a. くるみの殻を焼いた炭を使うため、黒い斑点模様が出来る
- b. くるみの灰を練り込んで焼くと 淡い緑色の色彩になる
- c. くるみの固い殻を焼いて練り込むため 落としても割れにくく頑丈になる

a b c

Q50 海野宿第二駐車場に設置されている飲料自動販売機のメーカーはどこ

- a. ポッカさん
- b. ダイドードリンコさん
- c. コカ・コーラさん

a b c

引用・参考文献・参考資料

海野のものがたり

発行 駿河海野会

製作 羽衣出版有限公司

本海野の歴史

発行 長野県小県郡東部町本海野区

制作 本海野の歴史委員会

海野郷・海野宿を訪ねて

発行 海野宿トラスト

製作 海野宿トラスト

※問題は全て2022年 4月1日現在のものです

§ 海野の歴史		§ 白鳥神社		§ 海野宿の町造り		§ 宿場町		§ 養蚕業		§ 東御市と現在の海野宿	
Q1	a	Q9	c	Q15	b	Q27	b	Q35	c	Q45	b
Q2	b	Q10	a	Q16	b	Q28	a	Q36	c	Q46	c
Q3	a	Q11	c	Q17	a	Q29	b	Q37	c	Q47	c
Q4	b	Q12	c	Q18	c	Q30	a	Q38	c	Q48	c
Q5	b	Q13	b	Q19	c	Q31	a	Q39	c	Q49	b
Q6	b	Q14	c	Q20	a	Q32	a	Q40	c	Q50	a
Q7	c			Q21	c	Q33	c	Q41	b		
Q8	b			Q22	c	Q34	c	Q42	c		
				Q23	a			Q43	c		
				Q24	c			Q44	b		
				Q25	b						
				Q26	a						