


2

海野宿検定

長野県東御市 海野宿検定試験
海野宿検定委員会 認定



受験番号	
氏名	

受験者記入欄

解答方法

1. 問題は全て三択問題です。正しいものを一つ選んで下さい。
2. 答えは 問題の右側のマス目 (a . b . c) のいずれかに丸をして下さい。
3. 試験時間は30分間です。終了した方は退室して頂いても構いません。

§ 海野の歴史について

Q1 海野宿を東西に貫く街道の名称は次のどれか？

- a. 中山道
- b. 北國街道
- c. 日光街道

a b c

Q2 滋野一族とは

- a. 海野氏、祢津氏、村上氏
- b. 海野氏、真田氏、祢津氏
- c. 海野氏、望月氏、祢津氏

a b c

Q3 750年～765年頃 正倉院から歴史上初めて"海野郷"と名前が記されたものが確認された。"信濃国小県郡海野郷～"と記されたそのものとは何か

- a. 鷹の羽や軍配団輪(ぐんばいうちわ)のようなものに長い柄をつけたもの
- b. 麻の布をねじり巻いて紐の芯としていたもの
- c. 東大寺の開眼供養のために献上された土地の工芸品

a b c

Q4 774年頃「日本霊異記」に海野宿が出てくるが当時の呼び名は

- a. 嬢の里 (おおなのさと)
- b. 童女平 (おむなたいら)
- c. 白鳥庄 (しらとりのしょう)

a b c

Q5 永正3年(1506)年に創建され、海野氏一族の菩提寺となっている寺は次のどれか

- a. 海善寺 (かいぜんじ)
- b. 興善寺 (こうぜんじ)
- c. 長國寺 (ちょうこくじ)


a b c

Q6 海野氏の家紋としても使われた六文銭は次のどれか


a.



b.



c.



a

b

c

Q7 保元元年(1156年)に起った保元の乱で、海野氏と敵対したのは誰か

a. 後白河天皇

b. 源義朝

c. 崇徳上皇

a

b

c

Q8 養和元年(1181年)白鳥河原に兵を勢揃いさせたのは誰か

a. 木曾義仲 (きそ よしなか)

b. 根井小弥太 (ねのい こやた)

c. 中原兼遠 (なかはら かねとう)

a

b

c

§ 白鳥神社について

Q9 現在の白鳥神社について正しいものは

a. 建久2年(1191年)本殿建立、興国 2年(1341年) 拝殿造営

b. 延徳3年(1491年)本殿建立、永禄 4年(1561年) 拝殿造営

c. 寛政3年(1791年)本殿建立、明治14年(1881年) 拝殿造営

a

b

c

Q10 白鳥神社の祭祀は

a. 海野重道、崇神天皇、善淵王、日本武尊、須佐之男命

b. 応神天皇、貞元親王、日本武尊子、海野 則広、善淵王

c. 日本武尊、須佐之男命、善淵王、海野広道、貞元親王

a

b

c

Q11 文化5年(1808)天下の相撲取り 雷電為右衛門が白鳥神社境内に奉納したものは

a. 自身が使用した化粧まわし。現在は本殿内 宝物庫内に所蔵。

b. くるみの幹で作った弓と白鳥の羽の矢。現在は拝殿内で拝観可能。

c. 四本柱の土俵。現在は、境内の同じ場所に名残が見られる。

a

b

c

Q12 雷電為右衛門の生涯通算成績は

a. 254勝 10敗 14預 5無勝負 (35場所)

b. 214勝 20敗 24預 2無勝負 (35場所)

c. 234勝 15敗 19預 1無勝負 (35場所)

a

b

c

Q13 白鳥神社と隣接する場所にある 縁結びの民話などで有名なものは

a. 吉祥寺御縁地藏 (きちじょうじえんむすびじぞう)

b. 媒地藏 (なかだちじぞう)

c. 館山寺縁結び地藏 (かんざんじえんむすびじぞう)

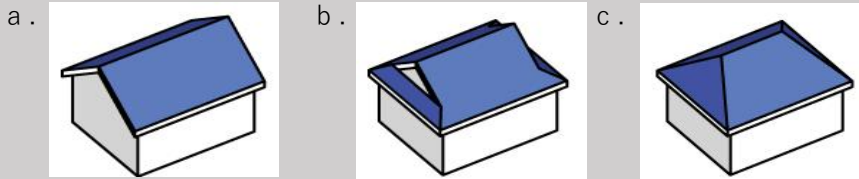
a

b

c

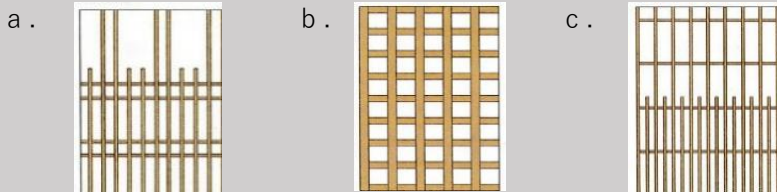
<p>Q14 白鳥神社の境内中央にあるご神木とは</p> <p>a. 白鳥大明神と称されていた頃からの 周囲8mを超える杉の木が現存する</p> <p>b. 昭和62年 重伝建に選定された年に植えられた ソメイヨシノ</p> <p>c. 樹齢700年を超える 欒（けやき）の木が現存する</p>	<p>a b c</p>
<p>§ 海野宿の町作りの特徴について</p>	
<p>Q15 昭和62年(1987年)、海野宿は国からある重要地区に選定されたがそれは何か</p> <p>a. 重要伝統的建造物群保存地区</p> <p>b. 重要文化財重点保存地区</p> <p>c. 重要建築及び歴史的景観保存地区</p>	<p>a b c</p>
<p>Q16 海野宿が「日本の道100選」に選定されたのは何年か</p> <p>a. 昭和41年(1966年)</p> <p>b. 昭和61年(1986年)</p> <p>c. 平成18年(2006年)</p>	<p>a b c</p>
<p>Q17 海野宿の歴史的景観を維持、保存するための整備として <u>誤った</u> 記述はどれか</p> <p>a. 川沿いに植樹されていた古木は下水道工事の為に全て切られた</p> <p>b. 街並みの中にあつた電柱は全て地中に埋められた</p> <p>c. 水路は石垣を積み替え「洗い場」を復元し、石橋を新しく架け替えた</p>	<p>a b c</p>
<p>Q18 海野宿内の玩具館などに見られる 厨子二階造りの記述はどれか</p> <p>a. 明治時代末期から大正時代に多く 二階の天井を高くし 居住用に用いられた</p> <p>b. 二階の床板を「ササラ」という小梁で支え、表には格子を組み込んでいる</p> <p>c. 江戸から明治時代に多く 二階部分の天井が低いのが特徴。</p>	<p>a b c</p>
<p>Q19 海野宿には 東柵形、西柵形 跡が残っているが、この柵形の <u>記述でないもの</u>は</p> <p>a. 別名「鉤の手」とも呼ばれ 陣を構える宿の軍事的施設としての機能</p> <p>b. 宿の入り口が直角に曲げられており、宿内が直線上に見えない構造</p> <p>c. 柵として宿場の流通の機能を集め、荷物や人馬の流れを円滑にする構造</p>	<p>a b c</p>
<p>Q20 海野宿によく見られる卯建（うだつ）の種類はどれか</p> <p>a. 脇うだつ、袖うだつなど</p> <p>b. 二層うだつ、端壁うだつなど</p> <p>c. 大和うだつ、欒うだつなど</p>	<p>a b c</p>
<p>Q21 「卯建（うだつ）」の記述について最も相応しいものはどれか</p> <p>a. 元々は防火壁としての用途だが、後には装飾用ともなった</p> <p>b. 元々は収めた年貢に応じ、藩主から高さの制限を許された家の装飾</p> <p>c. 元々は1階にあり、馬の係留の鎖留めが大きく高く装飾的になったもの</p>	<p>a b c</p>

Q22 NAGANO branch HOTELさんに見られるような江戸時代に建築された、元は茅葺であった屋根を持つ 寄棟造とは次のどれか



a b c

Q23 海野宿内で見られる "海野格子"は次のどれか



a b c

Q24 海野宿では 屋敷や宅地に接した一区画に祭られている神様が見られるが その屋敷神の記述として正しいものは

- a. 海野宿ではほとんどの家で祀られ、その神様は稲荷神が多い
- b. 海野宿では宿場としての性質から、伝馬や旅籠に係る約半数の家で 旅の神 猿田彦神（さるたひこのかみ）が祀られていた
- c. 海野宿では 約1/3が馬神、約1/3が豊穰神、約1/3は無宗教と考えられる

a b c

Q25 隣家との境界線上の屋根が接する部分はどのように呼ばれているか

- a. のきんぶ
- b. ひやべ
- c. けらば

a b c

Q26 海野宿から北へ延びる 御蔵小路。この御蔵小路の記述で正しいものはどれか

- a. 海野氏の菩提寺への通路であり、この辺りから海野宿の街並みが広がった
- b. 上田藩への近道であり、宿泊の大名の使者が密かに本陣へ直行出来た
- c. 祢津や松代への通路であり、昔は海野宿の郷倉や市神が置かれていた

a b c

§ 宿場町としての海野宿について

Q27 海野宿は令和七年に開宿後の節目の年を迎えるが、開宿何周年となるか

- a. 200年
- b. 300年
- c. 400年

a b c

Q28 北國街道の宿場町としての並びで正しいものは次のどれか（東→西）

- a. 追分宿 → 佐久宿 → 小諸宿 → 田中宿 → 海野宿
- b. 小諸宿 → 田中宿 → 海野宿 → 上田宿 → 坂木宿
- c. 海野宿 → 上田宿 → 坂木宿 → 戸倉宿 → 千曲宿

a b c

Q29	北國街道は江戸への物資の輸送路に使われたが、 <u>関係の薄いものはどれか</u>	
	a. 佐渡地方からの金銀の輸送 b. 越中 富山からの江戸への薬の運搬として c. 越後からの蠶荷物の運搬として	a b c
Q30	田中宿と海野宿の役割分担について正しいものはどれか	
	a. 本陣を田中宿に、脇本陣は海野宿に構えて分担した b. 小諸本町からの荷は海野宿へ継ぎ立て、公用の荷は田中宿へ継ぎ立てた c. 月の上十五日間は田中、下の十五日間は海野が役割を担った	a b c
Q31	公用における人馬の継ぎ立てで最も優先すべきは次のどれか	
	a. 京都の所司代、諸奉行から出された御証文 b. 公家や天皇家から出された金箔封をした御定勅書 c. 将軍から出された赤い判を押した伝馬朱印	a b c
Q32	海野宿に今も掲げられている屋号で実在するものは	
	a. 禎子屋 b. 金八屋 c. 半沢屋	a b c
Q33	海野宿に現在 <u>存在しない屋号</u> は次のどれか	
	a. おがくずや b. うちわや c. あぶらや	a b c
Q34	"割番"の記述で正しいものは	
	a. 田中組の仕事の責任者となり組中の庄屋に対する統制・連絡に当たる b. 本海野村を含む10ないし20の村々を束ねる 組制度の長としての活動 c. 上田藩と行政区域の橋渡しの役割。輪番制で運営	a b c
§ 養蚕業で繁栄した海野宿について		
Q35	養蚕を広めた 矢嶋行康と親交が厚く、明治7年(1874)に欧米視察を行った人物は	
	a. 板垣退助 b. 渋沢栄一 c. 岩倉具視	a b c
Q36	生糸生産工程は次のうちどれか	
	a. 煮繭 → 乾燥 → 揚返し → 選繭 → 操糸 b. 選繭 → 煮繭 → 揚返し → 操糸 → 乾燥 c. 乾燥 → 選繭 → 煮繭 → 操糸 → 揚返し	a b c

Q37 海野宿では「お蚕様」とも呼ばれた 蚕の幼虫は次のどれか



a b c

Q38 養蚕に欠かせない「桑の葉」は次のどれか



a b c

Q39 次の中で「桑の実」はどれか

- a. クランベリー
- b. ラズベリー
- c. マルベリー

a b c

Q40 養蚕飼育が行われていた季節についての記述は

- a. 建物内を暖めたり、冷やしながら 最初から年中飼育の環境で始まった。
- b. 始めは春を中心に飼育。春は良い気候であり、桑の栄養価が高い
- c. 桑の実が成る頃に栄養価が上がるので、晩夏から降霜の頃まで飼育

a b c

Q41 大屋根の上に小さく乗っている気抜き櫓の最も重要な役割は

- a. 建造物内は夏は大変暑いので部屋の温度を下げるための通気口として
- b. 室内に桑の葉を敷き、夜になると蚕（蛾）が産卵に来る通り窓として
- c. 火鉢の煙で室内を温めていたので、その煙出し用の換気口として

a b c

Q42 本海野で養蚕業と共に広く繁栄したものは

- a. 桑の栽培などを行なう 耕種農業
- b. 蚕蛾を産卵させ、蚕の卵を販売する蚕種業
- c. 籐や籠など 竹細工職人による 生糸の生産工程における備品の職人工芸品

a b c

Q43 明治40年頃 本海野の宮坂友作氏が発明したものは？

- a. 桑切り機（くわきり）
- b. 蚕巢折り器（こすおり）
- c. 蚕籠洗浄桶（さんろう）

a b c

Q44 今日の国内に於いて、養蚕農家が一番多く存在する都道府県はどこか（133戸）

- a. 長野県
- b. 群馬県
- c. 栃木県

a b c

§ 現在の東御市と海野宿に関して

Q45 東御市の市花・市木・市蝶は次のうちどれか

- a. レンゲツツジ・くるみの木・オオルリシジミ
- b. ミツバツツジ・くるみの木・ヤマトシジミ
- c. レンゲツツジ・くるみの木・ツバメシジミ

a b c

Q46 海野宿内の蕎麦屋 かじ屋さんのくるみそば 一枚のお値段は

- a. 800円
- b. 1,200円
- c. 1,500円

a b c

Q47 海野宿内 古本カフェのらっぽさんの 店内には常時何冊の本が常備されているか

- a. 約 500冊
- b. 約 1,500冊
- c. 約 2,500冊

a b c

Q48 当 海野宿検定試験会場である「うんのわ」の正式な施設名は

- a. 滞在型交流施設 うんのわ
- b. 体験型滞在施設 うんのわ
- c. 多目的観光施設 うんのわ

a b c

Q49 海野宿内にあるレトロなポストは次のどのタイプか



a b c

Q50 東御市市長は次の誰か（敬称略）

- a. 荻原健司
- b. 岸田文雄
- c. 花岡利夫

a b c

引用・参考文献・参考資料

海野のものがたり

発行 駿河海野会

製作 羽衣出版有限会社

本海野の歴史

発行 長野県小県郡東部町本海野区

制作 本海野の歴史委員会

海野郷・海野宿を訪ねて

発行 海野宿トラスト

製作 海野宿トラスト

※問題は全て2022年 4月1日現在のものです

§ 海野の歴史		§ 白鳥神社		§ 海野宿の町造り		§ 宿場町		§ 養蚕業		§ 東御市と現在の海野宿	
Q1	b	Q9	c	Q15	a	Q27	c	Q35	c	Q45	a
Q2	c	Q10	c	Q16	b	Q28	b	Q36	c	Q46	a
Q3	b	Q11	c	Q17	b	Q29	b	Q37	b	Q47	c
Q4	a	Q12	a	Q18	c	Q30	c	Q38	b	Q48	a
Q5	b	Q13	b	Q19	c	Q31	c	Q39	c	Q49	c
Q6	c	Q14	c	Q20	a	Q32	b	Q40	b	Q50	c
Q7	c			Q21	a	Q33	a	Q41	c		
Q8	a			Q22	c	Q34	b	Q42	b		
				Q23	a			Q43	a		
				Q24	a			Q44	b		
				Q25	c						
				Q26	c						